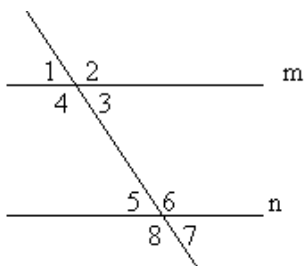
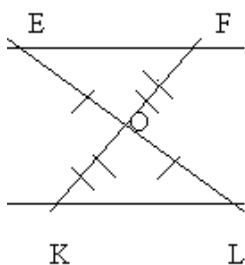


Геометрия 7А,7Б,7В

1. Параллельны ли прямые: m и n , изображенные на рисунке?

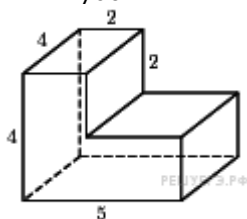


2) На рисунке точка O – середина отрезков EL и KF . Доказать, что $EF \parallel KL$

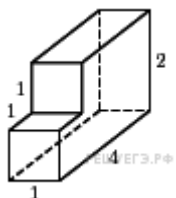


Геометрия 11А,11В

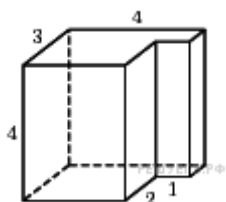
1. Найдите объем пространственного креста, изображенного на рисунке и составленного из единичных кубов.



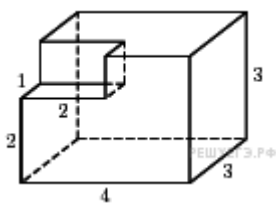
2. Найдите объем многогранника, изображенного на рисунке (все двугранные углы прямые).



3. Найдите объем многогранника, изображенного на рисунке (все двугранные углы прямые).



4. Найдите объем многогранника, изображенного на рисунке (все двугранные углы прямые).



5. Найдите объем многогранника, изображенного на рисунке (все двугранные углы прямые).