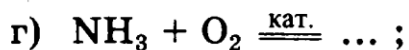
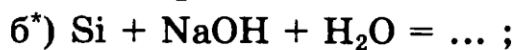
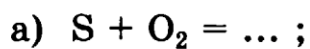
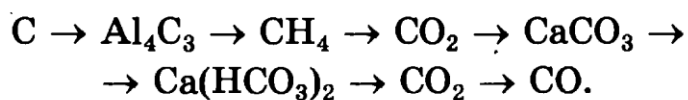


1. Закончите уравнения реакций:



Какие из этих реакций имеют практическое значение.

2. Осуществите превращения:



Укажите условия протекания реакций.